

# スペースシャトルプレートの使い方<sup>つか</sup>を練習<sup>かた</sup>しよう!<sup>れんしゅう</sup> その3

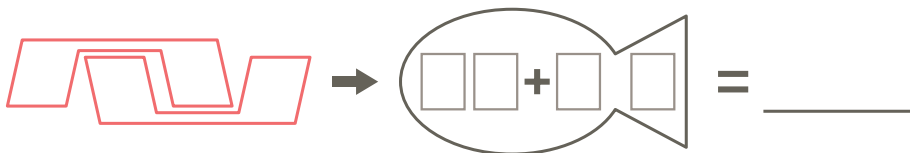
まだまだ、練習<sup>れんしゅう</sup>問題<sup>もんだい</sup>をするよ。

スペースシャトルプレートに数字<sup>すうじ</sup>を書き入れながらやってみよう!

かけ算<sup>さん</sup>の答え<sup>こた</sup>が1ケタのときは、どうするんだっけ?

$$3 \times 2 + 2 \times 3$$

まず、左<sup>ひだり</sup>のかけ算<sup>さん</sup>をするよ。

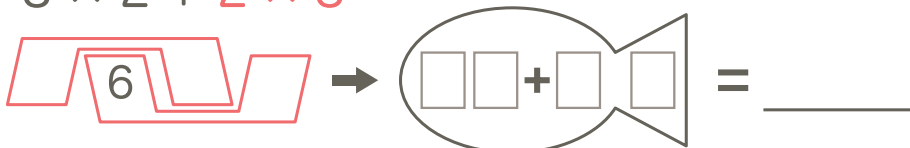


$$3 \times 2 = 6$$

スペースシャトルプレートの左側<sup>ひだりがわ</sup>に6<sup>か</sup>を書くよ。

次に、右<sup>みぎ</sup>のかけ算<sup>さん</sup>をしよう。

$$3 \times 2 + 2 \times 3$$

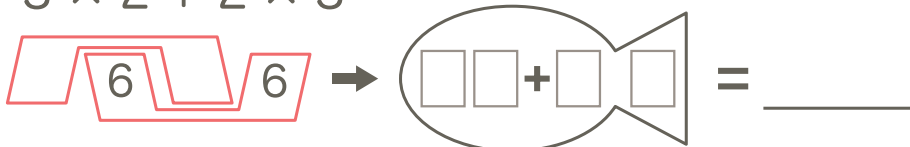


$$2 \times 3 = 6$$

スペースシャトルプレートの右側<sup>みぎがわ</sup>に6<sup>か</sup>を書こう。

次に、同じシャトル<sup>おなじ</sup>に乗った数字<sup>の</sup>のたし算<sup>すうじ</sup>をするよ。

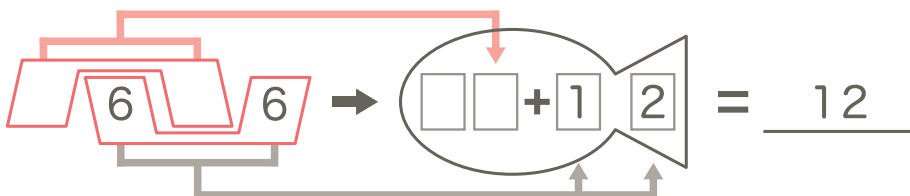
$$3 \times 2 + 2 \times 3$$



上<sup>うえ</sup>のシャトルには なにもない ( $0 + 0 = 0$ ) から、おさかなプレートにはなにも書<sup>か</sup>かない。

下<sup>した</sup>のシャトルは  $6 + 6 = 12$  だから、胴体<sup>どうたい</sup>右<sup>みぎ</sup>に1、しっぽに2<sup>か</sup>を書くんだね。

$$3 \times 2 + 2 \times 3$$



だから、答え<sup>こた</sup>は12。